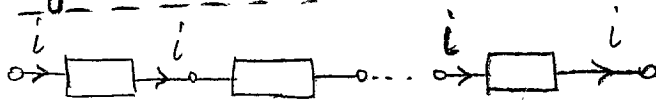


8) Μετασχηματισμός αστερά-τριγώνου

8.1) Εισαγωγή

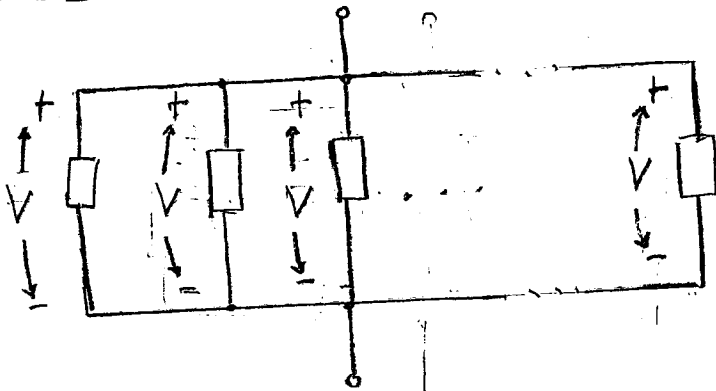
Είναι γνωστές οι 2 βασικές συνδεσμολογίες ηλεκτρικών στοιχείων

- Συνδεσμολογία σειράς



(έχουμε κοινό ρεύμα σε όλα τα στοιχεία)

- Συνδεσμολογία εν παραλλήλω



(έχουμε κοινή τάση σε όλα τα στοιχεία)

- Υπάρχουν όμως και συνθετικότερες συνδεσμολογίες, 3 και άνω ηλεκτρικών στοιχείων, που δεν μπορούν να θεωρηθούν ούτε εν σειρά ούτε εν παραλλήλω

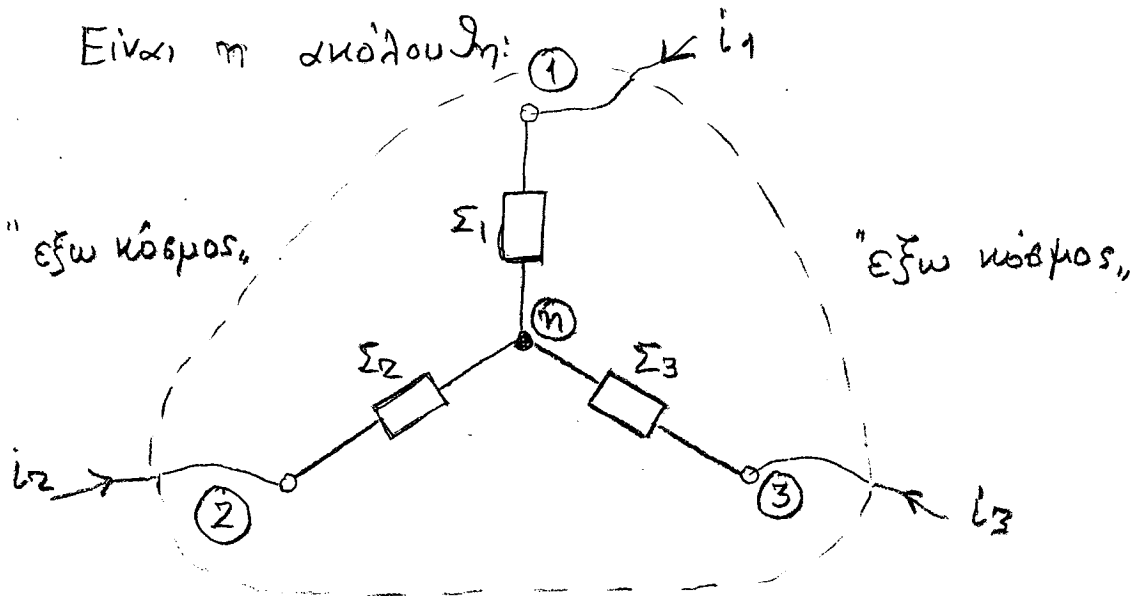
Παρακάτω θα δείξουμε 2 χαρακτηριστικές περιπτώσεις συνδεσμολογιών, που έχουν σημαντική αξία στις πρακτικές εφαρμογές. Για απλότητα θα ασχοληθούμε με συνδεσμολογίες

3 στοιχείων. Προφανώς οι περιπτώσεις γενικεύονται

για  $n$  στοιχεία

### 8.2 Συνδεσμολογία κωτέρα

Είναι η ακόλουθη:



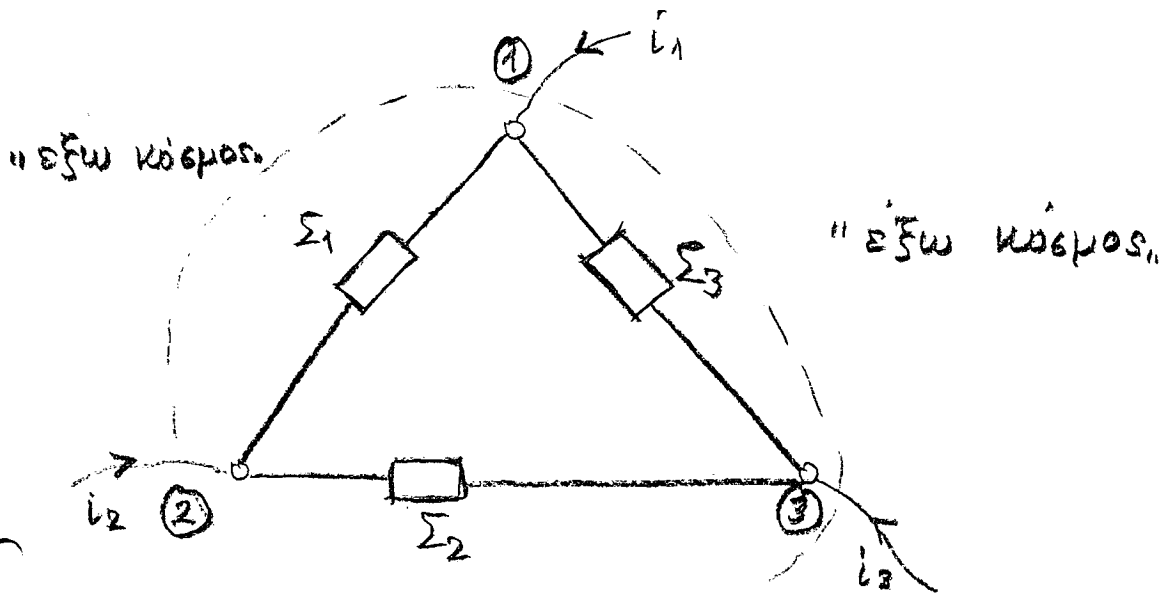
Τα 3 στοιχεία  $\Sigma_1, \Sigma_2, \Sigma_3$  έχουν κοινό των ενδ  
 ακροδέκτη τους (σημείο  $\eta$ ) και ο άλλος ακροδέκτης  
 τους  $1, 2, 3$  συνδέεται με των "εξω κόσμος".

Θεωρούμε εδώ ότι τα  $\Sigma_1, \Sigma_2, \Sigma_3$  είναι παθητικά στοιχεία  
 (δηλ. συνδεσμολογίες R, L, C με οποιοδήποτε τρόπο σύνδεσης)

Στη γενική περίπτωση τα  $\Sigma_1, \Sigma_2, \Sigma_3$  δεν είναι  
 συνδεδεμένοι ούτε εν σειρά, ούτε παράλληλα  
 μεταξύ τους

### 8.3 Συνδεσμολογία τριγώνου

Είναι η ακόλουθη:



Τα 3 στοιχεία  $\Sigma_1, \Sigma_2, \Sigma_3$  συνδέονται το ένα μετά το άλλο σχηματίζοντας ένα τρίγωνο του οποίου οι κορυφές (1), (2), (3) συνδέονται με τον "εξω κόσμο".

Και πάλι τα  $\Sigma_1, \Sigma_2, \Sigma_3$  δεν είναι, γενικά, ούτε εν σειρά ούτε παράλληλα συνδεδεμένα μεταξύ τους

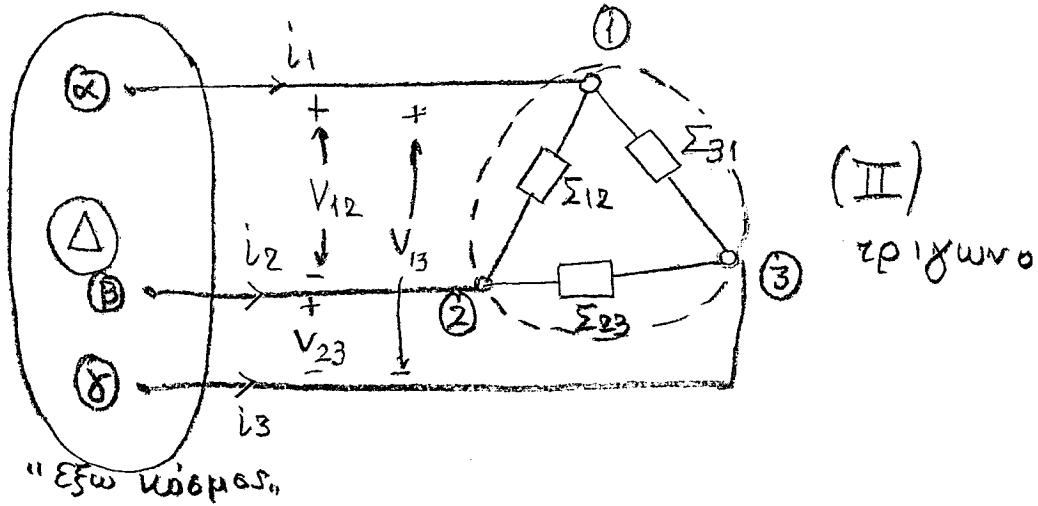
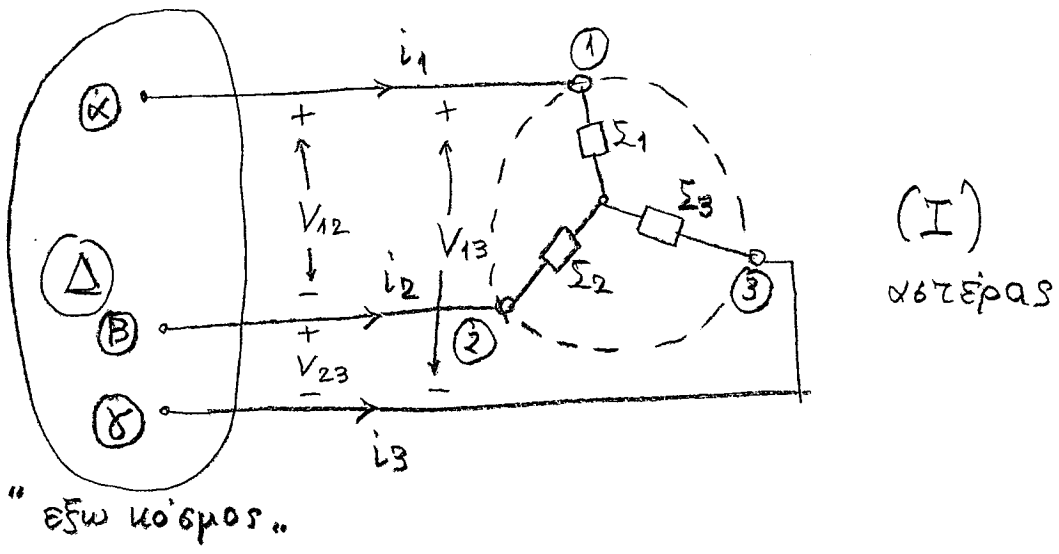
### 8.4. Ισοδυναμία αστερά - τριγώνου

Πιθεται το ερώτημα:

- Είναι δυνατόν μια συνδεσμολογία αστερά να είναι ισοδύναμη με μια συνδεσμολογία τριγώνου (και αντίστροφα);

Αντλαδη ο "εξω κόσμος" να μην βλέπει καμμία διαφορά μεταξύ των δύο συνδεσμολογιών, ως προς τους 3 μηροδέυτες (1), (2), (3)

Σχηματικά:



Αηλαστή:

Το δίκτυο  $\Delta$  ως προς 3 σημεία του  $\alpha, \beta, \gamma$  συνδέεται με τα σημεία (κίτροδοξίτες)  $1, 2, 3$  ενός αστερά (I) και ενός τριγώνου (II).

Όταν τα ρεύματα  $i_1, i_2, i_3$  και οι τάσεις  $V_{12}, V_{23}, V_{13}$  παραμένουν τα ίδια, και στις δύο περιπτώσεις, τότε ο αστεράς και το τρίγωνο είναι μεταξύ τους

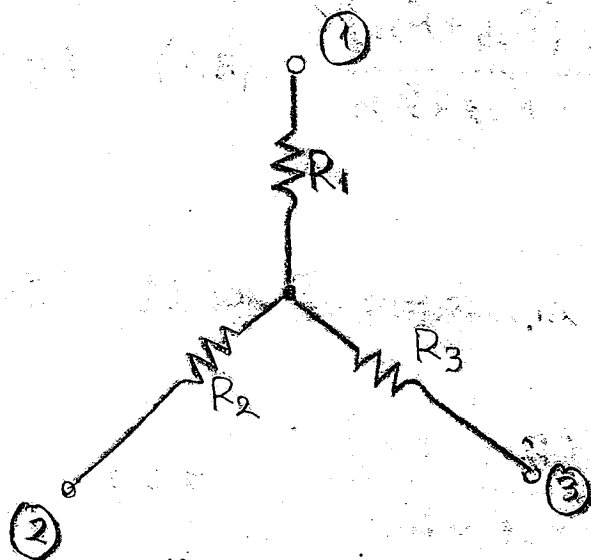
ισοδύναμα

Παρακάτω θα εξετάσουμε λεπτομερώς το θέμα της

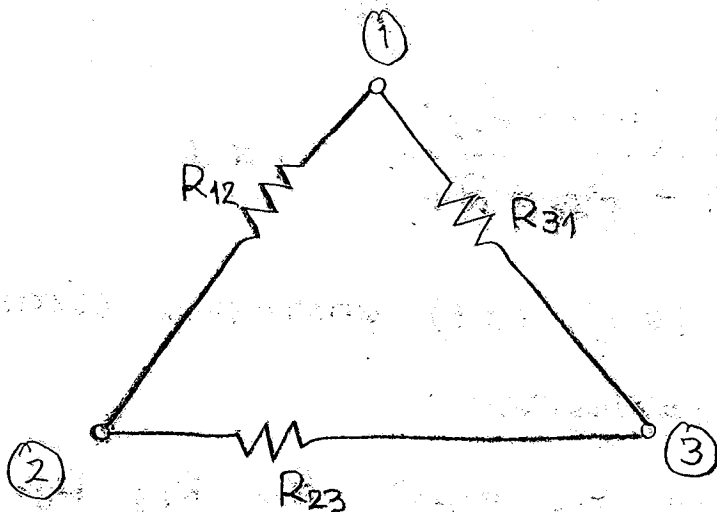
ισοδυναμίας

Όπως προαναφέραμε τα στοιχεία που συζητούσαν τον αστερά και το τρίγωνο είναι παθητικά

Για απλότητα θα θεωρήσουμε ότι είναι απλές ωμικές αντιστάσεις. Έτσι θα έχουμε:



Αστέρας



Τρίγωνο

85  
 Για να είναι ισοδύναμες οι δύο συνδέσμολογίες  
 πρέπει να ισχύουν οι ακόλουθες σχέσεις;

- Εξετάζω από τους κηροδέιτες ① και ②, ο ③ είναι "στον κέρ" (δεν συνδέεται πουθενά)

$$R_1 + R_2 = \frac{R_{12} (R_{23} + R_{31})}{R_{12} + R_{23} + R_{31}} \quad (8.1) \quad (\text{γιατί;})$$

- Εξετάζω από τους κηροδέιτες ② και ③, ο ① είναι "στον κέρ".

$$R_2 + R_3 = \frac{R_{23} (R_{12} + R_{31})}{R_{12} + R_{23} + R_{31}} \quad (8.2)$$

- Εξετάζω από τους κηροδέιτες ③ και ①, ο ② είναι "στον κέρ".

$$R_1 + R_3 = \frac{R_{31} (R_{12} + R_{23})}{R_{12} + R_{23} + R_{31}} \quad (8.3)$$

Οι σχέσεις (8.1), (8.2), (8.3) αποτελούν σύστημα 3 εξισώσεων με 3 αγνώστους

π.χ. θεωρώ γνωστές τις τιμές  $R_{12}, R_{23}, R_{31}$  και αγνώστες τις τιμές  $R_1, R_2, R_3$

Λύνοντας το σύστημα θα βρω τις σχέσεις μεταξύ των  $(R_1, R_2, R_3)$  και  $(R_{12}, R_{23}, R_{31})$  για να έχω ισοδύναμια

Οα έχω

$$R_1 + R_2 = \frac{R_{12} R_{23} + R_{12} R_{31}}{R_{12} + R_{23} + R_{31}} \quad (8.1)$$

$$\text{η } (8.2) \Rightarrow -R_2 - R_3 = \frac{-R_{12} R_{23} - R_{31} R_{23}}{R_{12} + R_{23} + R_{31}} \quad (8.4)$$

$$(8.1) + (8.4) \Rightarrow R_1 - R_3 = \frac{R_{12} R_{31} - R_{31} R_{23}}{R_{12} + R_{23} + R_{31}} \quad (8.5)$$

$$\text{και } (8.5) + (8.3) \Rightarrow 2R_1 = \frac{2 R_{12} R_{31}}{R_{12} + R_{23} + R_{31}}$$

αρα τελικά

$$R_1 = \frac{R_{12} R_{31}}{R_{12} + R_{23} + R_{31}} \quad (8.6)$$

με οποιο τρόπο δε βρούμε:

$$R_2 = \frac{R_{12} R_{23}}{R_{12} + R_{23} + R_{31}} \quad (8.7)$$

$$R_3 = \frac{R_{23} R_{31}}{R_{12} + R_{23} + R_{31}} \quad (8.8)$$

- οι σχέσεις (8.6), (8.7), (8.8) δίνουν τις τιμές των  $R_1, R_2, R_3$ , του ισοδύναμου κατέρα, όταν είναι γνωστές οι τιμές των  $R_{12}, R_{23}, R_{31}$  του δεδομένου τριγώνου

Εργαζόμενοι αντίστροφα έχουμε τις σχέσεις

$$R_{12} = \frac{R_1 R_2 + R_2 R_3 + R_3 R_1}{R_3} \quad (8.9)$$

$$R_{23} = \frac{R_1 R_2 + R_2 R_3 + R_3 R_1}{R_1} \quad (8.10)$$

$$R_{31} = \frac{R_1 R_2 + R_2 R_3 + R_3 R_1}{R_2} \quad (8.11)$$

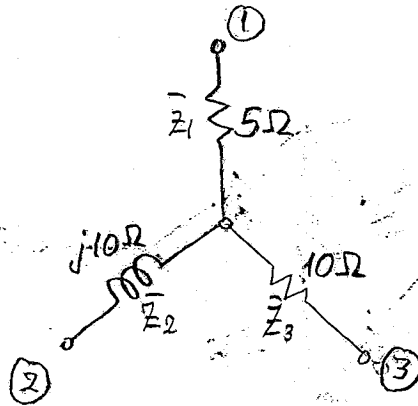
- οι σχέσεις (8.9), (8.10), (8.11) δίνουν τις τιμές των  $R_{12}, R_{23}, R_{31}$ , του ισοδύναμου τριγώνου, όταν είναι γνωστές οι τιμές των  $R_1, R_2, R_3$  του δεδομένου κατέρα

Όλοι αυτοί οι τύποι γενικεύονται (γράφονται ομοίως) στις περιπτώσεις που, ανά ωμίμης  $R$ , έχουμε συνθέτες  $\bar{Z}(\omega)$  ή τελεστές αντίστροφης  $Z(D)$



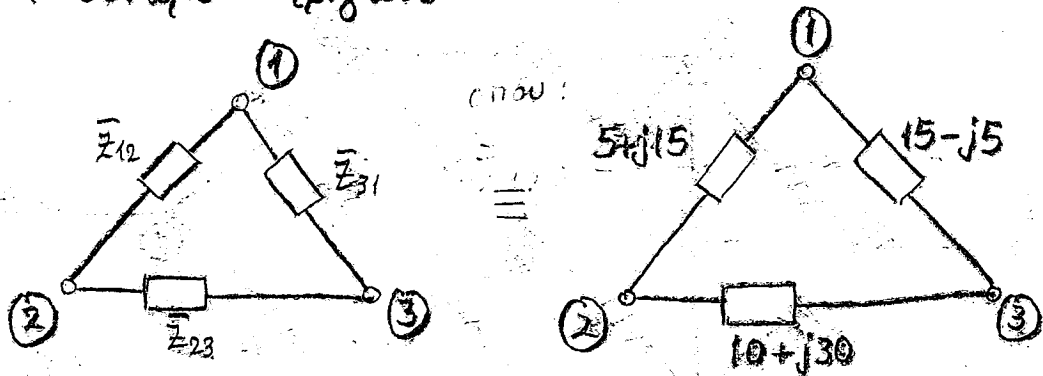
## Εφαρμογή 1

Στην παρακάτω συνδεσμολογία κέρρα, βρείτε το ισοδύναμο τρίγωνο.



Απ/ έχουμε  $\bar{Z}_1 = 5\Omega$ ,  $\bar{Z}_2 = j10$ ,  $\bar{Z}_3 = 10\Omega$

Χρη το ισοδύναμο τρίγωνο θα είναι:



όπου

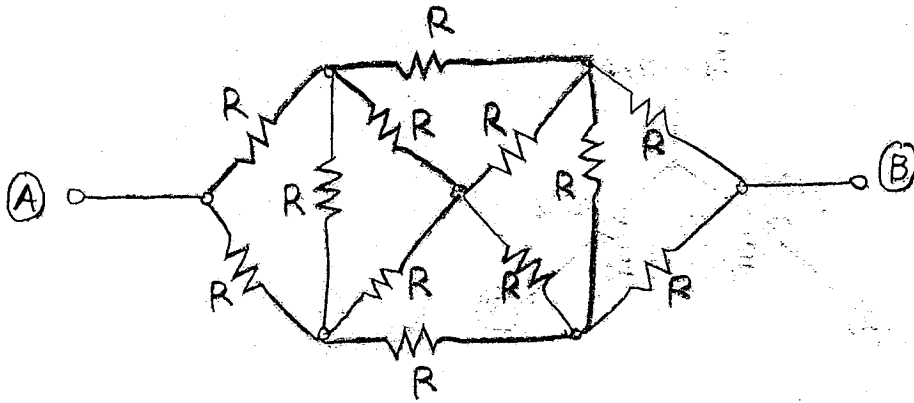
$$\bar{Z}_{12} = \frac{\bar{Z}_1 \bar{Z}_2 + \bar{Z}_2 \bar{Z}_3 + \bar{Z}_3 \bar{Z}_1}{\bar{Z}_3} = \frac{5 \times j10 + 10 \times j10 + 5 \times 10}{10} = \frac{50 + j150}{10} = 5 + j15 \Omega$$

$$\bar{Z}_{23} = \frac{\bar{Z}_1 \bar{Z}_2 + \bar{Z}_2 \bar{Z}_3 + \bar{Z}_3 \bar{Z}_1}{\bar{Z}_1} = \frac{50 + j150}{5} = 10 + j30 \Omega$$

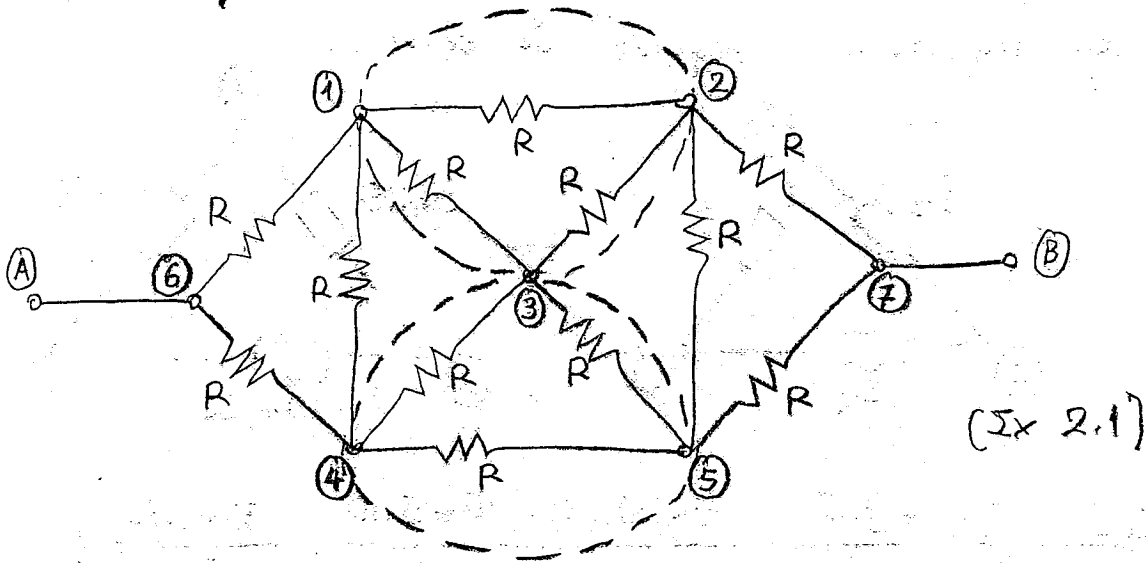
$$\bar{Z}_{31} = \frac{\bar{Z}_1 \bar{Z}_2 + \bar{Z}_2 \bar{Z}_3 + \bar{Z}_3 \bar{Z}_1}{\bar{Z}_2} = \frac{50 + j150}{j10} = 15 - j5 \Omega$$

Εφαρμογή 2)

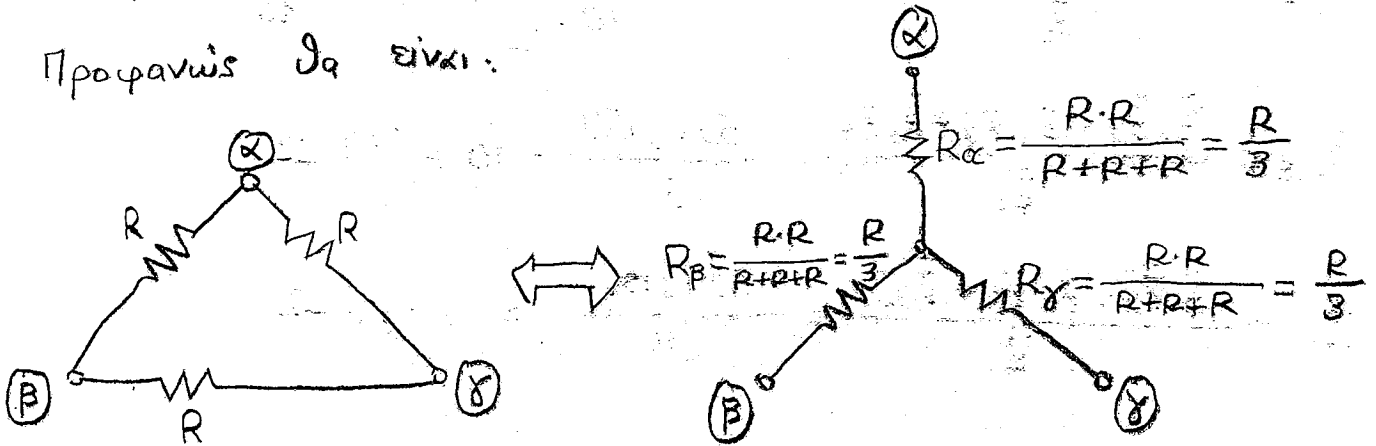
Στην παρακάτω συνδεσμολογία η τιμή  $R$  θεωρείται γνωστή  
 Υπολογίστε την αντίσταση  $R_{AB}$



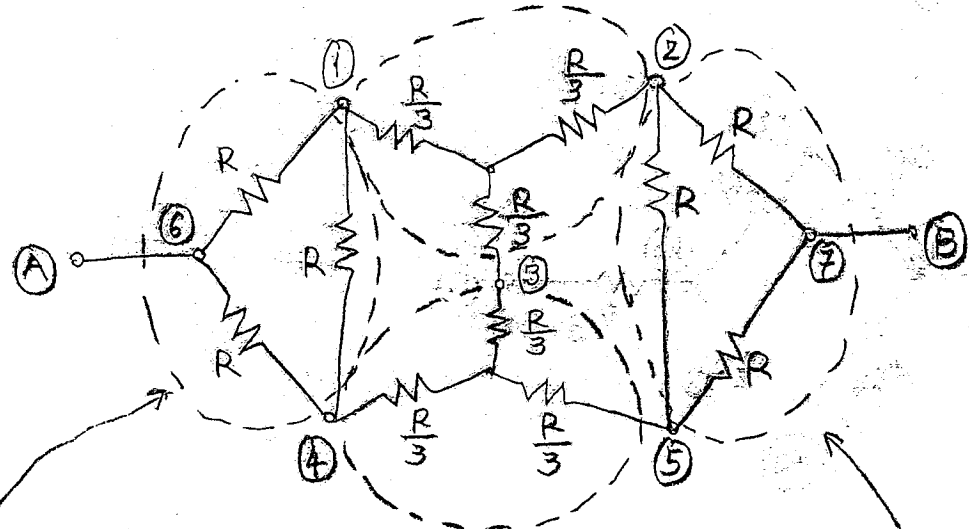
Απ/ Θα κάνουμε διαδοχικούς μετασχηματισμούς τριγώνων  
 σε αντίστροφο.



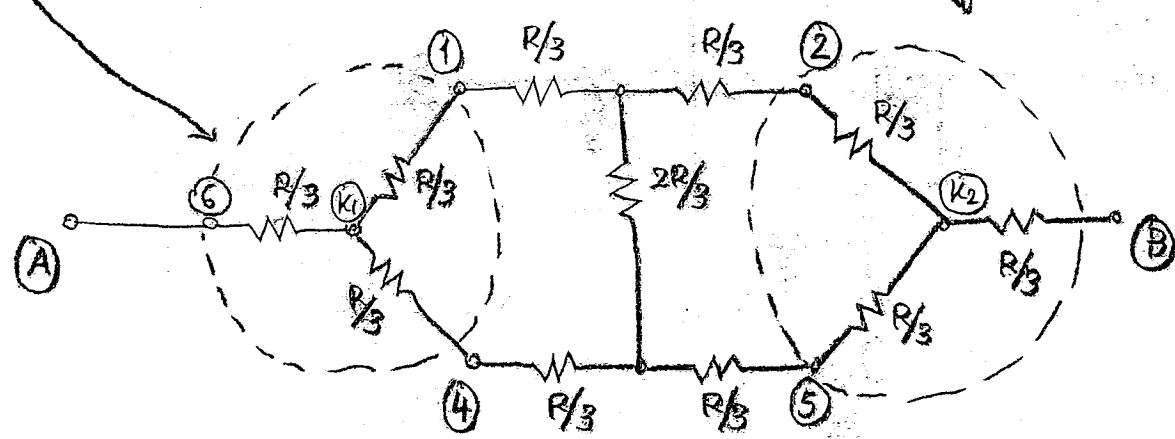
Προφανώς θα είναι:



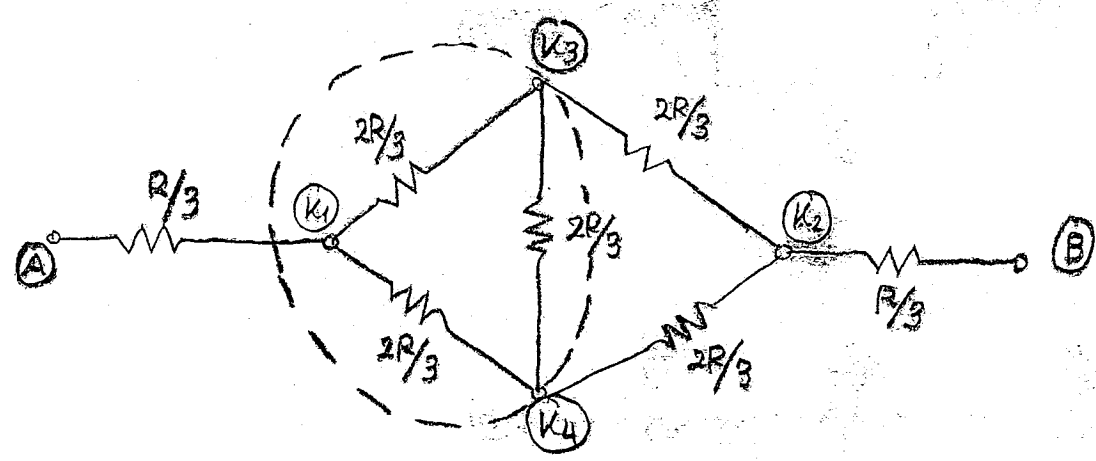
αφ' ου ειναι δινεται:



η ισοδυναμια:

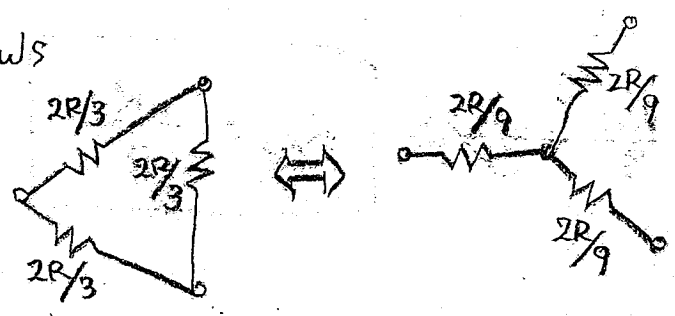


προβλεπουμε ως εν βολη αντιστασεις



(εξ 2.2)

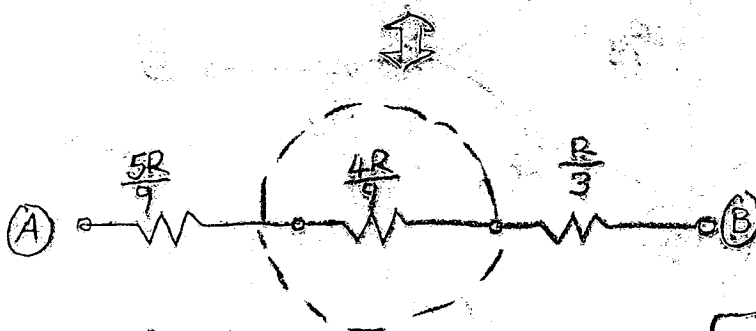
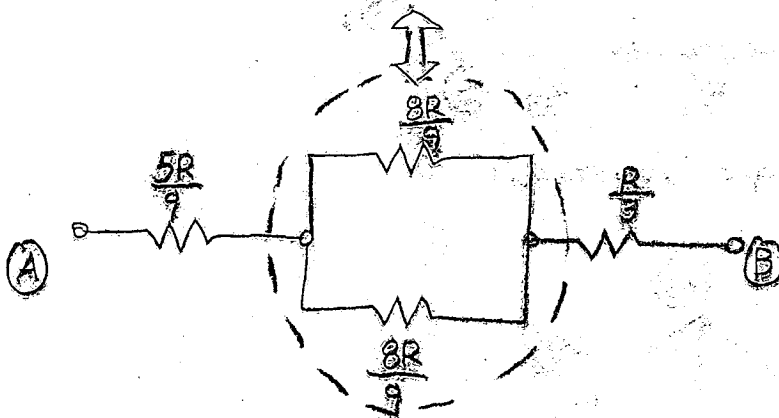
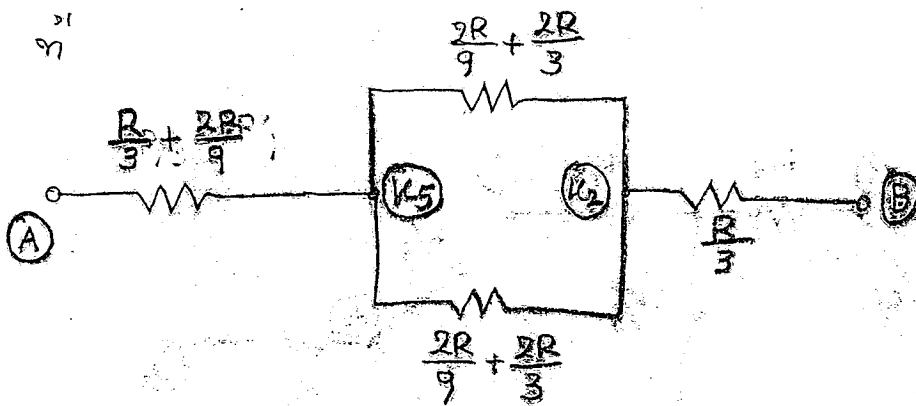
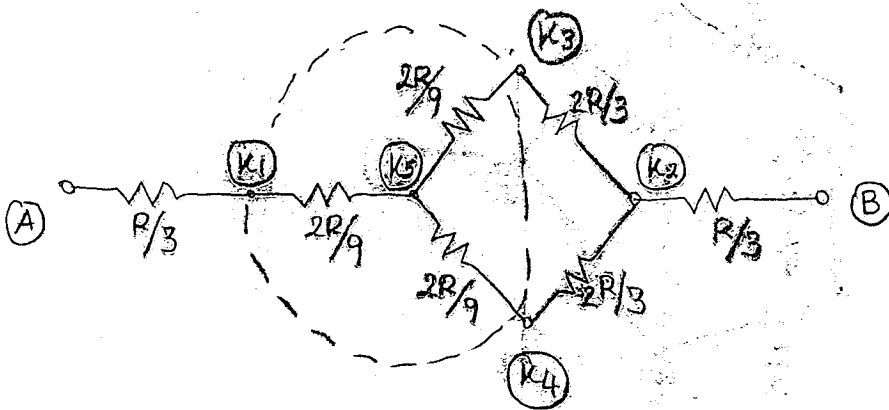
προφανως



αφα

20 (Σ x 2,2) δίνεται:

91



αρα τελικά

$$R_{AB} = \frac{5R}{9} + \frac{4R}{9} + \frac{R}{3} \Rightarrow$$

$$R_{AB} = \frac{4R}{3}$$